

**Analyse du sujet-**

La **démographie** est l'étude des caractéristiques d'une population : nombre, classes d'âge, répartition sur un territoire, cadre de vie (rural ou urbain) et de leurs évolutions dans le temps, c'est à dire leurs « dynamiques ».

Les **inégalités socio-économiques** sont les écarts de richesses et de conditions matérielles de vie à l'intérieur de cette population.

Lorsque l'on associe les données démographiques aux données socio-économiques, pour étudier la répartition des inégalités dans un territoire, on parle d'**inégalités socio-spatiales**.

**Cadrage du sujet-**

Quelle est le nombre d'habitants en France ? .....

Quel est le poids démographiques de l'Île-de-France sur le territoire français ? .....

.....

.....

Formuler une question reprenant le sujet : .....

.....

.....

**1- Une démographie dynamique [p. 174-175]**

a- *Une croissance continue et des mobilités internes et externes*

Définir :

solde naturel : .....

.....

solde migratoire : .....

.....

Justifiez la phrase : « *la population française est en forte croissance par rapport à ses voisins* » :

argument 1 : .....

argument 2 : .....

argument 3 : .....

Pourquoi la population française est-elle métissée [**doc. p. 175**] ?

.....

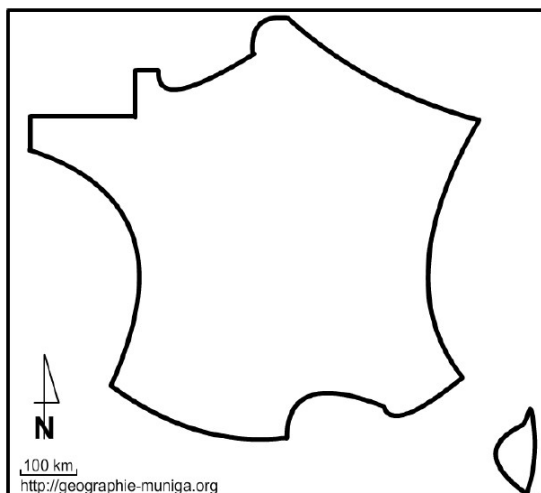
.....

.....

Concernant la répartition par âges [**3 p. 173**], quel phénomène déjà constaté à l'échelle mondiale peut-on observer en France métropolitaine ? .....

.....

**Les mobilités intérieures [1 p. 172]** : sur le schéma ci-dessous représentez de manière simplifiée les régions qui gagnent de la population et celles qui en perdent :



Régions qui gagnent de la population

Régions qui perdent de la populations

Quelles sont les régions attractives du territoire français ?.....

.....

.....

.....

Quel est le solde migratoire de la France d'après cette carte ? .....

.....

b- Une population irrégulièrement répartie et qui se concentre dans les métropoles

Lorsqu'il s'agit d'une ville, qu'est ce qu'une **métropole** ? .....

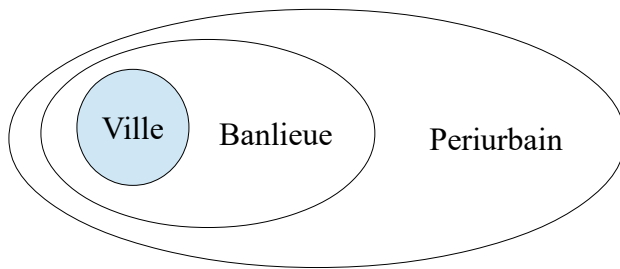
Les métropoles sont hiérarchisées en fonction de l'importance de leur espace d'influence. Pourquoi Paris est-elle une métropole nationale, européenne et mondiale [5 p. 165] ?

Nationale : .....

européenne : .....

mondiale : .....

Un peu de vocabulaire utile : une **aire urbaine**



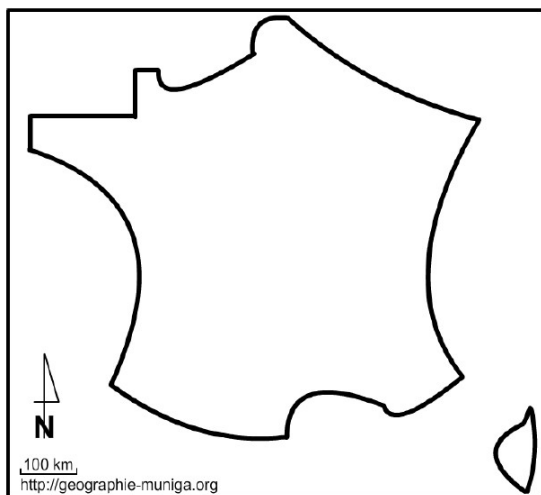
Ville-centre + banlieue = agglomération ou unité urbaine


Unité urbaine + périurbain = aire urbaine


Pourquoi parle-t-on aujourd'hui d'**étalement urbain** ? .....


[doc. 1 p. 164] Pourquoi peut-on parler de **primatie**<sup>1</sup> parisienne sur le territoire français ? .....

La répartition de la population en fonction des **densités** (nombre d'habitants par km<sup>2</sup>) [2 p. 175] : sur le schéma ci-dessous représenté les régions très densément peuplées et les régions faiblement peuplées :



 Régions les plus densément peuplées

 Régions les moins densément peuplées

 Principales métropoles attractives (nommez-les sur votre schéma)

Quels sont les pourcentages des populations urbaines et rurales en France :

- population urbaine : .....

- population rurale : .....

Comment la population se répartit-elle en fonction des classes d'âges :

à l'échelle du territoire métropolitain : .....

à l'échelle des aires urbaines : .....

**Bilan** : quelles sont selon vous les deux grandes caractéristiques démographiques de la France :

1- .....

2- .....

1 Les géographes parlent de **primatie** voire de **macrocéphalie** (littéralement grosse tête) lorsque l'écart entre la première aire urbaine et les suivantes est très important.

**2- Des inégalités socio-économiques et des disparités socio-spatiales à toutes les échelles**

*a- Quelles sont les inégalités socio-économiques en France ?*

Qu'est-ce que le **revenu médian** ? .....

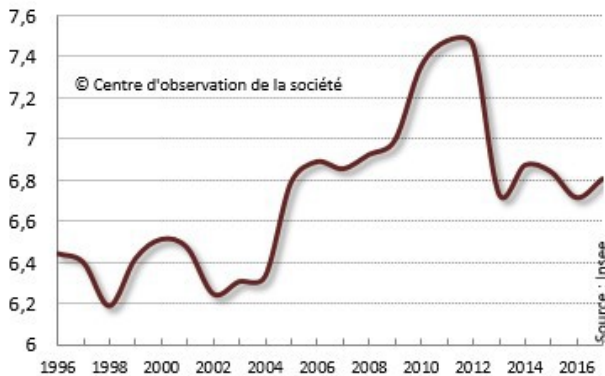
A combien s'élève-t-il en France aujourd'hui ? .....

Rechercher le **revenu moyen** en France ? .....

Comment expliquer l'écart entre le revenu moyen et le revenu médian ? Faites une hypothèse : .....

Entre le **revenu moyen** et le **revenu médian**, quelle est, selon vous, celui qui montre le mieux les inégalités socio-économiques ? ..... Justifiez votre réponse : .....

Niveau de vie moyen des 10 % les plus riches rapporté à celui des 10 % les plus pauvres



Comment les inégalités ont-elles évolué en France depuis 2000 ? .....

Quelles sont les principales **discriminations** liées à ces inégalités de revenus entre les individus ? (Compléter avec le livre)

**Inégalités en France : les principaux chiffres à retenir**

**REVENUS**

Les 10% les plus RICHES reçoivent **23,8%** de l'ensemble des revenus

**5 millions** de personnes vivent avec moins de **855 euros** par mois

**ESPÉRANCE DE VIE**

Les hommes RICHES ont une espérance de vie de 84,4 ans contre 71,7 ans pour les plus PAUVRES soit **12,7 ans** de moins

**EDUCATION**

**2,9 fois plus** d'ENFANTS de CADRES que d'ENFANTS d'OUVRIERS dans l'enseignement supérieur

**2,6 fois plus** de GARÇONS que de FILLES dans les écoles d'ingénieurs

**EMPLOI**

1 ACTIF ou INACTIF souhaitant travailler sur 4 est en situation de mal-emploi (chômage, contrat précaire)

Comment l'État peut-il contribuer à réduire les inégalités entre les Français ? .....

Qu'est-ce que l'État-providence ? .....

Pourquoi est-il menacé aujourd'hui ? .....

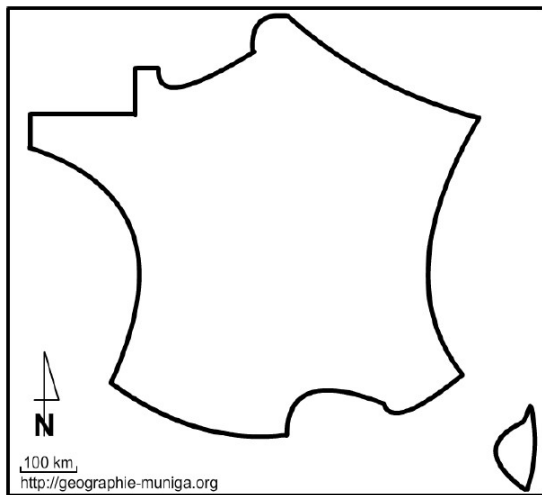
→TRANSITION- Mais, l'une des plus grandes causes des inégalités est celle du lieu de résidence. On parle alors d'**inégalités socio-spatiales**.

*b- Des inégalités socio-spatiales à toutes les échelles*

[2 p. 173] Comment les revenus se répartissent-ils à l'échelle du territoire français ? Comparer cette carte avec celle des densités et des métropoles [2 p. 175] : .....

.....  
.....

Sur le schéma ci-dessous représentez de manière simplifiée la répartition des inégalités de revenus en France :



Territoires dans lesquels la médiane des revenus est supérieure à 20 000 € annuels

Territoires dans lesquels la médiane des revenus est inférieure à 20 000 € annuels

[2 p. 177] Qu'est-ce qu'un **désert médical** ? .....

.....

**Déserts médicaux** les plus graves

Comment expliquer la pénurie de personnel de santé dans certains territoires ? .....

.....

Dans une situation de **pandémie**, comme celle que nous vivons, quelles peuvent être les conséquences de cette pénurie ? .....

.....

A l'échelle **régionale**, comment les inégalités de revenus se répartissent-elles (ex. Île-de-France) [6 p.166 ; p. 167] .....

.....

A l'échelle d'une **agglomération** :

Qu'est-ce que la **gentrification** ? .....

.....

Pourquoi peut-on parler d'une gentrification du quartier de Montreuil depuis 1968 [7 p. 166] ?.....

.....

Comment la photographie aérienne [1 p. 177] montre-t-elle les inégalités socio-spatiales dans un quartier résidentiel de la banlieue de Toulouse ? .....

.....

Comment l'État essaie-t-il de réduire les inégalités entre les territoires à différentes échelles ? .....

.....

Quelle est la contribution de l'**Union Européenne** dans ce domaine ? .....

.....

**Bilan** : quelles sont selon vous les deux grandes caractéristiques des inégalités sociales en France :

1- .....

2- .....